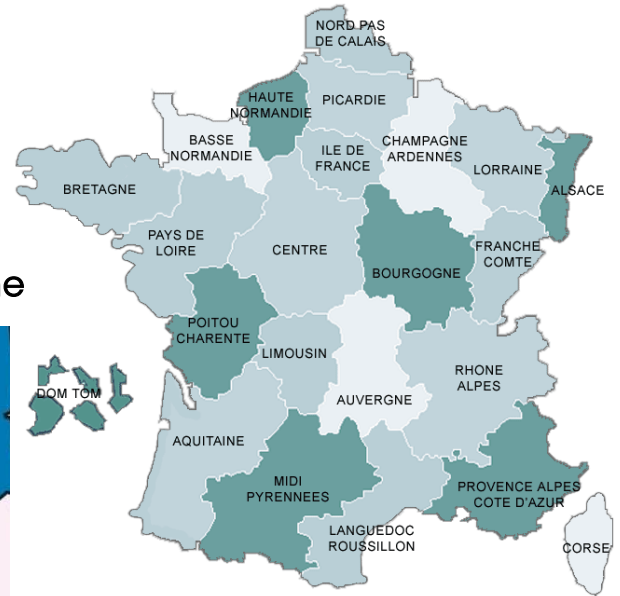


Document 1 : Définition d'une région**La région**

Une région est un territoire comportant de 2 à 8 départements. Elle porte un nom qui permet de la situer (Nord-Pas-de-Calais, Centre...) ou qui rappelle les anciennes provinces du royaume de France (Bretagne, Aquitaine, Bourgogne, Alsace, Lorraine...) (DOC. 1 ET CARTE 14). Comme la commune et le département, la région se caractérise par un territoire, une population et une administration.

1. Comment s'appelle la région où nous habitons ?
2. D'où vient le nom de notre région ?
3. Quels sont les 3 éléments essentiels d'une région.

**Document 2 : Le territoire de la région Bretagne**

4. Combien la région Bretagne compte-t-elle de départements ?
5. Comment s'appelle le département où nous vivons ?
6. En France, où se situe la Bretagne ? Utilisez les termes nord, sud, est, ouest.

Document 3 : Le logo de la région Bretagne

En 2005, la région Bretagne a décidé de changer son logo. Le logo représente la région sur les affiches, les courriers, les documents officiels...

Il a été décidé de conserver certains éléments de l'ancien logo : la forme carré, un texte clair et les couleurs bleu et vert (symbolisant la mer et la terre).

La région Bretagne a choisi de faire figurer un élément symbolique : l'hermine, un des symboles du drapeau breton.

7. Pourquoi une région a-t-elle besoin d'un logo ?
8. Pourquoi a-t-on choisi ces couleurs et ce symbole ?



Document 1 : Population des régions françaises

Région	Population
Île-de-France	11 866 900
Rhône-Alpes	6 272 467
Provence-Alpes-Côte d'Azur	4 944 390
Nord-Pas-de-Calais	4 038 280
Pays de la Loire	3 594 865
Aquitaine	3 258 176
Bretagne	3 221 451
Midi-Pyrénées	2 916 076
Languedoc-Roussillon	2 661 449
Centre	2 551 372
Lorraine	2 354 876
Picardie	1 919 367
Alsace	1 860 243
Haute-Normandie	1 843 118
Poitou-Charentes	1 780 379
Bourgogne	1 647 708
Basse-Normandie	1 476 937
Auvergne	1 347 794
Champagne-Ardenne	1 334 998
Franche-Comté	1 177 295
La Réunion	839 480
Limousin	746 691
Guadeloupe	401 730
Martinique	396 000
Corse	312 936
Guyane	236 300
France	63 127 768

Source : Insee, estimations de population.

1. Combien y'a-t-il d'habitants en France ?
2. Combien y'a-t-il d'habitants en Bretagne ?
3. Dans ce classement des régions en fonction de leur population, à quelle place arrive la Bretagne ?

Document 2 : Les 10 grandes villes bretonnes

Ville	Population
Ille et Vilaine	
Rennes	206655
Saint-Malo	48211
Fougères	20078
Côtes d'Armor	
Saint-Brieuc	45879
Morbihan	
Lorient	58148
Vannes	52983
Lanester	22490
Finistère	
Brest	142097
Quimper	63929
Concarneau	20096

4. Quelles sont les 6 plus grandes villes de Bretagne ?

Sur le fond de carte



1. Colorie chaque département d'une couleur différente
2. Écris le nom des départements en MAJUSCULES : FINISTERE...
3. Écris à leur place le nom des villes en minuscule : Rennes
4. Colorie les points des villes de la manière suivante :
 - rouge pour les villes de plus de 100 000 habitants
 - orange pour les villes de 50 000 à 99 000 habitants
 - jaune pour les autres

Document 1 : Le Conseil régional**L'organisation du territoire**

Le conseil régional s'occupe de l'enseignement (les lycées, la formation professionnelle...), des activités économiques (les entreprises qu'il aide se développer), des transports (transports en commun régionaux), de l'environnement (DOC. 2)... Pour cela, il dispose d'une partie des impôts locaux, de certaines taxes et de subventions de l'État.

LEXIQUE

un conseil régional : l'ensemble des conseillers régionaux élus par les habitants d'une région pour organiser la vie de cette région.

les impôts locaux : les impôts que les personnes et les entreprises versent à la commune, au département et à la région dans lesquels ils habitent.

une subvention : de l'argent donné pour aider une entreprise ou une administration à réaliser un projet.

une taxe : un impôt.

1. De quoi s'occupe le conseil régional ?
2. Comment le conseil régional peut-il aider une entreprise ?
3. D'où vient l'argent du conseil Régional ?

Pour un TER accessible à tous !

uzuëll

-75%

L'ABONNEMENT TER POUR TOUS*

*Sur le trajet TER Bretagne de votre choix.

LANCEMENT
SEPTEMBRE
2007

Eddy
malin,
son abonnement
lui sert aussi
en ville

Alain
chaque matin,
prend le temps
de lire son journal
en allant travailler



ter BRETAGNE
En région Bretagne, vos idées ont un avenir.

Document 2 :
Une action du Conseil régional de
Bretagne

4. Dans quel domaine se situe cette action ?
5. Quelle action la région Bretagne mène-t-elle pour développer l'utilisation du train ?
6. Dans quel but le Conseil régional de Bretagne cherche-t-il à développer le train ?

**Recherche**

1. Le nom du préfet de la région Bretagne
2. Le nom du président du Conseil Régional

Ma région s'appelle : _____

Son nom vient de : _____

Son logo :



Les couleurs :

Le symbole :

Elle comporte _____ départements :

Elle compte _____ habitants et c'est la _____ région de France.

Les 5 villes les plus importantes de la région sont :

Le président du Conseil régional s'appelle : _____

Quelques actions menées par le Conseil régional en faveur :

- des transports : _____

- des jeunes : _____

- de l'environnement : _____

Ma région s'appelle : **la Bretagne**

Son nom vient **du nom de l'ancienne province du royaume de France.**

Son logo :



Les couleurs :

- le bleu représente la mer
- le vert représente la terre

Le symbole :

L'hermine rappelle le symbole breton présent sur le drapeau

Elle comporte **4** départements :

Le Finistère, les Côtes d'Armor, le Morbihan et l'Ille et Vilaine

Elle compte **3 221 000** habitants et c'est la **7ème** région de France.

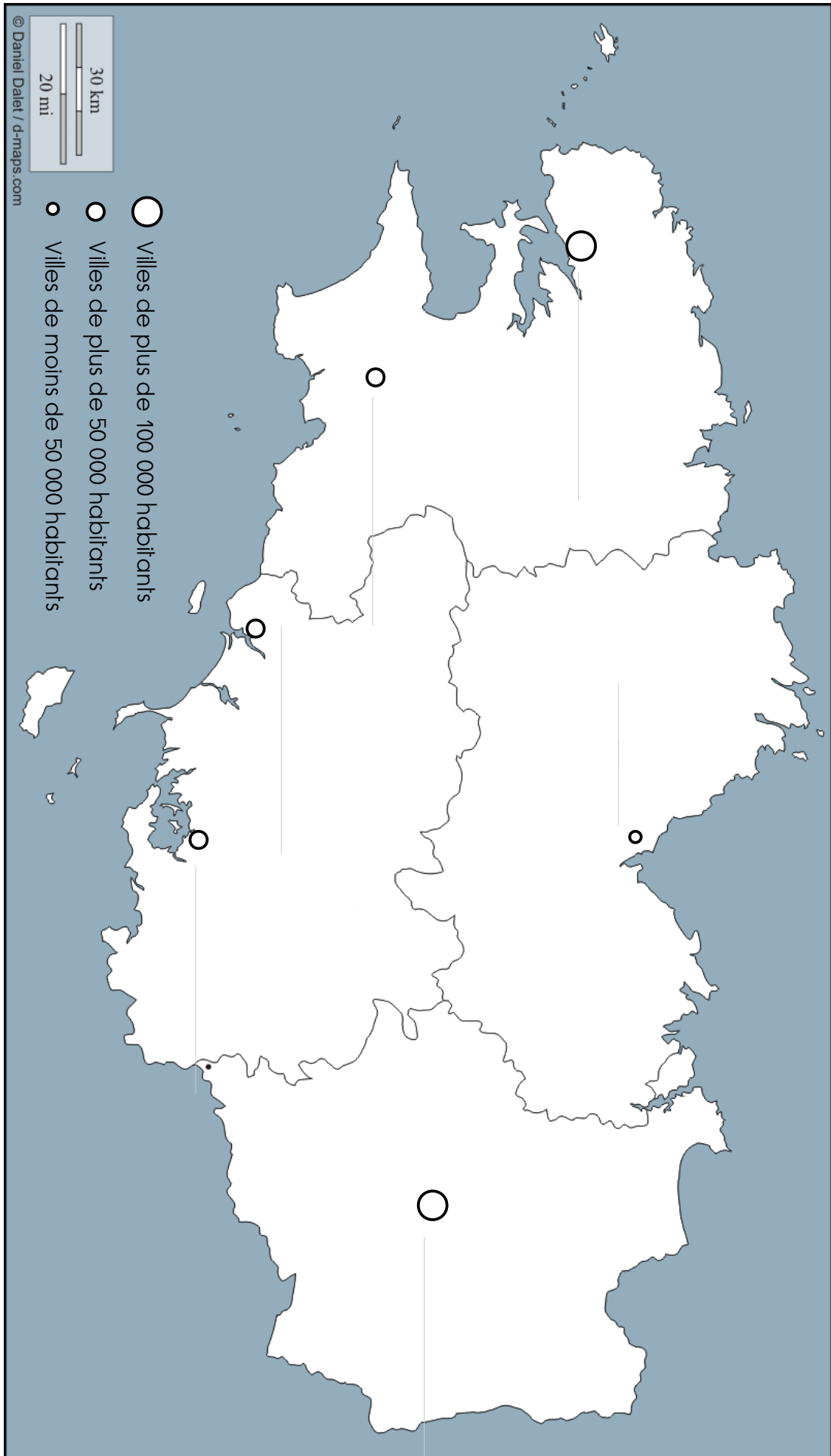
Les 5 villes les plus importantes de la région sont :

Rennes, Brest, Quimper, Lorient, Vannes, Saint-Brieuc

Le président du Conseil régional s'appelle : **Monsieur Pierrick Massiot**

Quelques actions menées par le Conseil régional en faveur :

- des transports : **réduction sur les abonnements de train (Usuel)**
- des jeunes : **chèque livre pour les lycéens**
- de l'environnement : **parcs naturels régionaux**



Es-tu prêt(e) pour l'évaluation ?

1. connaître le nom et l'origine du nom de notre région.
2. savoir reconnaître son logo et expliquer ses principaux éléments.
3. connaître le nom des départements et savoir le situer sur une carte.
4. connaître le nombre d'habitant de la Bretagne.
5. connaître le nom des 6 plus grandes villes bretonnes et savoir les situer su une carte.
6. connaître le nom du président du conseil régional.
7. connaître au moins 2 domaines dont s'occupe le conseil régional et savoir y associer deux actions concrètes.

Si tu as bien compris tous ces points, alors tu es prêt(e) pour l'évaluation.
Sinon, revois ta leçon !

Es-tu prêt(e) pour l'évaluation ?

1. connaître le nom et l'origine du nom de notre région.
2. savoir reconnaître son logo et expliquer ses principaux éléments.
3. connaître le nom des départements et savoir le situer sur une carte.
4. connaître le nombre d'habitant de la Bretagne.
5. connaître le nom des 6 plus grandes villes bretonnes et savoir les situer su une carte.
6. connaître le nom du président du conseil régional.
7. connaître au moins 2 domaines dont s'occupe le conseil régional et savoir y associer deux actions concrètes.

Si tu as bien compris tous ces points, alors tu es prêt(e) pour l'évaluation.
Sinon, revois ta leçon !

Es-tu prêt(e) pour l'évaluation ?

1. connaître le nom et l'origine du nom de notre région.
2. savoir reconnaître son logo et expliquer ses principaux éléments.
3. connaître le nom des départements et savoir le situer sur une carte.
4. connaître le nombre d'habitant de la Bretagne.
5. connaître le nom des 6 plus grandes villes bretonnes et savoir les situer su une carte.
6. connaître le nom du président du conseil régional.
7. connaître au moins 2 domaines dont s'occupe le conseil régional et savoir y associer deux actions concrètes.

Si tu as bien compris tous ces points, alors tu es prêt(e) pour l'évaluation.
Sinon, revois ta leçon !

Es-tu prêt(e) pour l'évaluation ?

1. connaître le nom et l'origine du nom de notre région.
2. savoir reconnaître son logo et expliquer ses principaux éléments.
3. connaître le nom des départements et savoir le situer sur une carte.
4. connaître le nombre d'habitant de la Bretagne.
5. connaître le nom des 6 plus grandes villes bretonnes et savoir les situer su une carte.
6. connaître le nom du président du conseil régional.
7. connaître au moins 2 domaines dont s'occupe le conseil régional et savoir y associer deux actions concrètes.

Si tu as bien compris tous ces points, alors tu es prêt(e) pour l'évaluation.
Sinon, revois ta leçon !

1. Comment s'appelle la région où nous habitons ? D'où vient ce nom ?

2. De quelles couleurs est le logo de notre région ? Pourquoi a-t-on choisi ces couleurs ?

3. Quel symbole peut-on voir sur le logo de notre région ?

4. Combien y'a-t-il d'habitants dans notre région ?

5. Cite le noms des 6 villes les plus peuplées de la région.

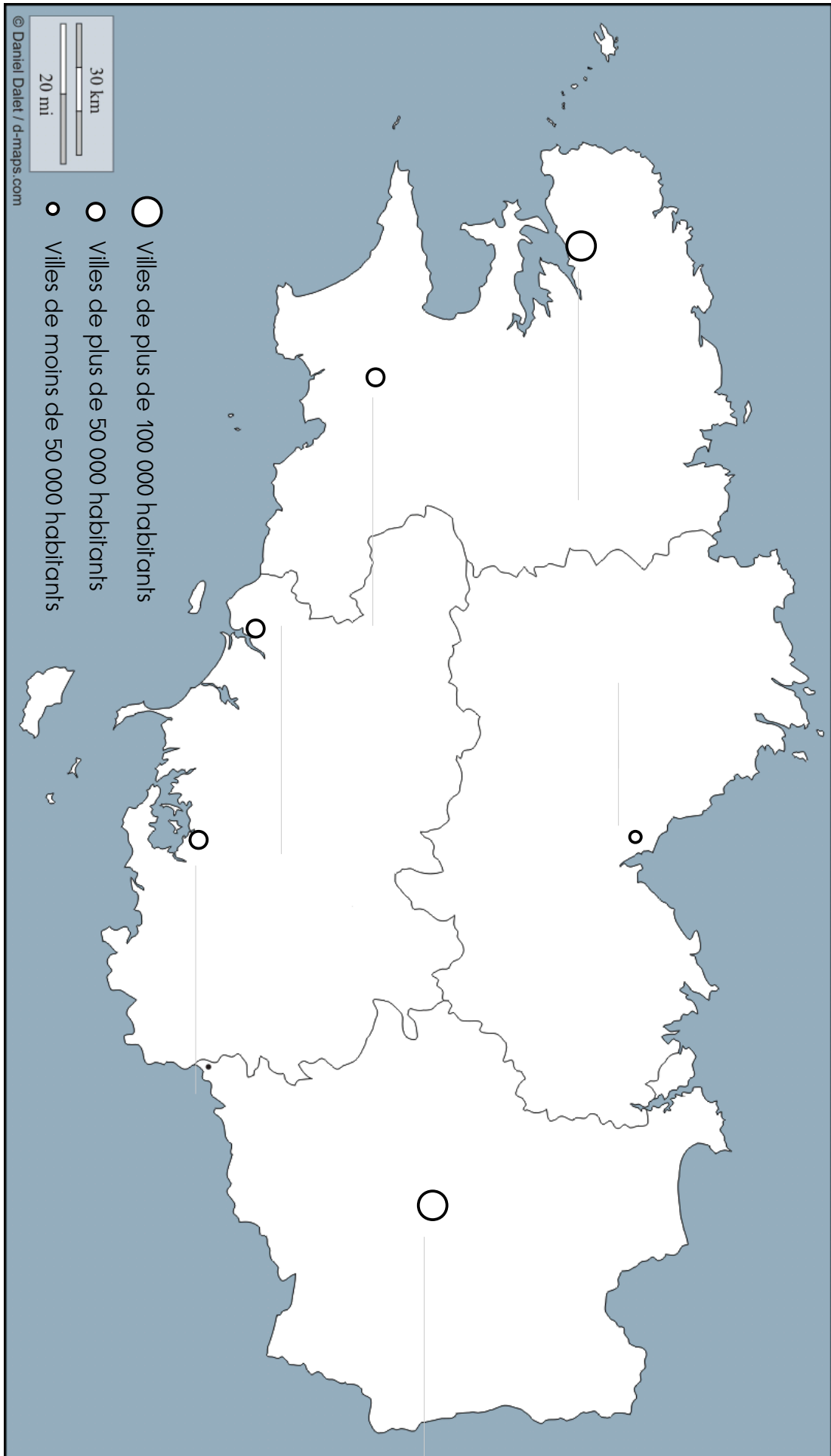
6. Cite deux domaines dont s'occupe le Conseil régional.

7. Cite deux actions menées par le Conseil régional.

8. Comment s'appelle le président du Conseil régional ?

9. Complète le fond de carte avec :

- le nom des départements
- le nom des 6 plus grandes villes



1. Comment s'appelle la région où nous habitons ? D'où vient ce nom ?

La région où nous vivons s'appelle la **Bretagne**. Elle a conservé le nom de l'ancienne province du royaume de France.

2. De quelles couleurs est le logo de notre région ? Pourquoi a-t-on choisi ces couleurs ?

La logo est **bleu** et **vert**. Le bleu représente l'**océan** qui entoure la région et le vert représente **la terre**.

3. Quel symbole peut-on voir sur le logo de notre région ?

Sur le logo, on peut voir un ancien symbole breton : **l'hermine**, qui est aussi présent sur le drapeau.

4. Combien y'a-t-il d'habitants dans notre région ?

Il y a **3 221 000** habitants / **plus de 3 millions d'habitants** / **3 200 000**

5. Cite le noms des 6 villes les plus peuplées de la région.

Les 6 villes les plus peuplées sont : **Rennes, Brest, Quimper, Lorient, Vannes, Saint-Brieuc**

6. Cite deux domaines dont s'occupe le Conseil régional.

Le conseil régional s'occupe, entre autre, **des transports, de la jeunesse et de l'environnement**

7. Cite deux actions menées par le Conseil régional.

Abonnement de train à tarif réduit, **chèques livre** pour les lycéens, **parc naturel régional**

8. Comment s'appelle le président du Conseil régional ?

Monsieur Perrick Massiot

9. Complète le fond de carte avec :

- le nom des départements
- le nom des 6 plus grandes villes